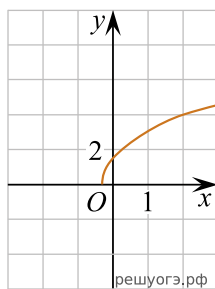
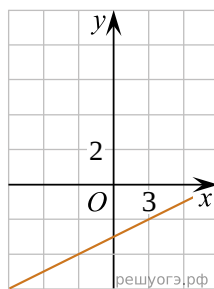


Укажите соответствие между графиками функций и формулами, которые их задают.

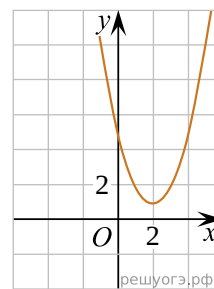
А)



Б)



В)



1)  $y = (x + 2)^2 + 1$

2)  $y = \sqrt{7x + 2}$

3)  $y = \frac{x}{3} - 3$

4)  $y = (x - 2)^2 + 1$

Ответ укажите в виде последовательности цифр без пробелов и запятых в указанном порядке

А	Б	В