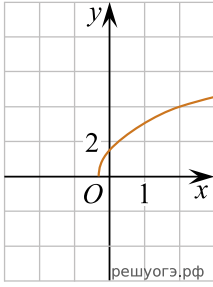
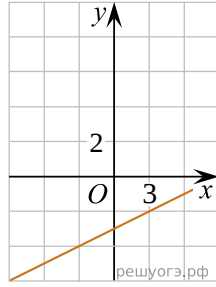


Укажите соответствие между графиками функций и формулами, которые их задают.

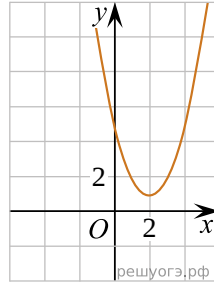
А)



Б)



В)



- 1) $y = (x + 2)^2 + 1$
- 2) $y = \sqrt{7x + 2}$
- 3) $y = \frac{x}{3} - 3$
- 4) $y = (x - 2)^2 + 1$

Ответ укажите в виде последовательности цифр без пробелов и запятых в указанном порядке

| А | Б | В |
|---|---|---|
| | | |