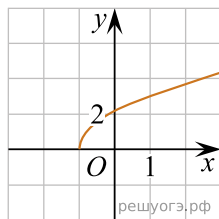
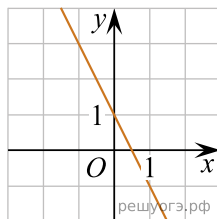


Укажите соответствие между графиками функций и формулами, которые их задают.

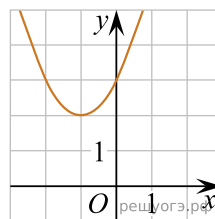
А)



Б)



В)



1) $y = (x + 1)^2 + 2$

2) $y = 1 - 2x$

3) $y = \sqrt{5x + 5}$

4) $y = \sqrt{5x - 5}$

Ответ укажите в виде последовательности цифр без пробелов и запятых в указанном порядке

А	Б	В