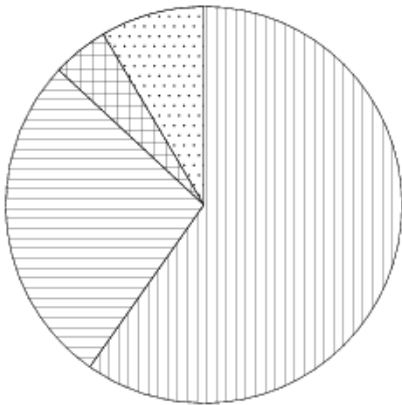
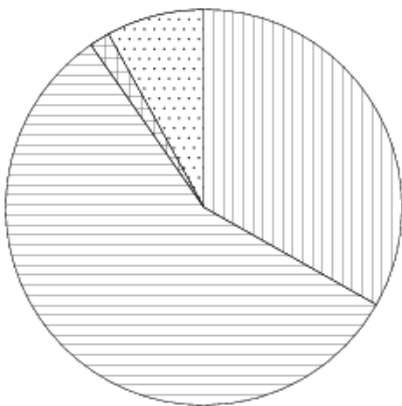


На диаграмме показано распределение земель Уральского, Приволжского, Южного Федеральных округов и Сибири по категориям. Определите по диаграмме, в каком округе доля земель сельскохозяйственного назначения превышает 70%.

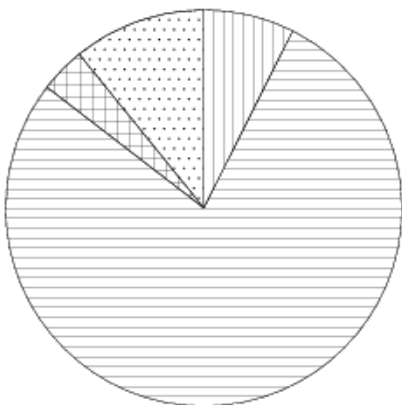
Уральский ФО



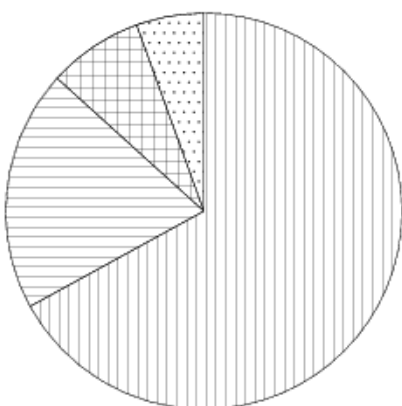
Приволжский ФО



Южный ФО



Сибирь





Земли лесного фонда



Земли сельскохозяйственного назначения



Земли запаса



Прочее*

*прочее — это земли поселений; земли промышленности и иного специального назначения; земли особо охраняемых территорий и объектов.

Варианты ответа

1.	Уральский ФО	2.	Приволжский ФО	3.	Южный ФО	4.	Сибирь
----	--------------	----	----------------	----	----------	----	--------