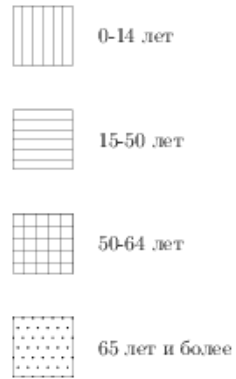
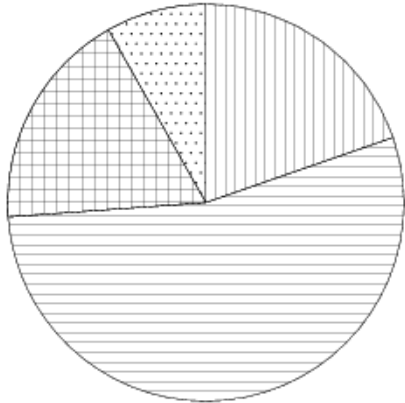
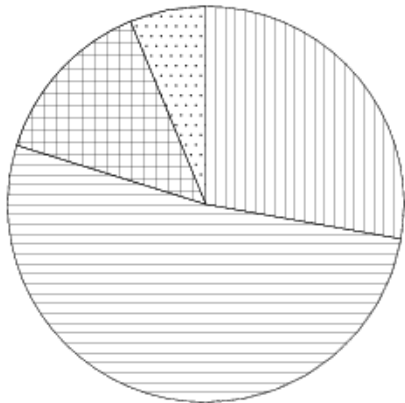


На диаграммах показаны возрастные составы населения Китая, Индонезии, Японии и России. Определите по диаграмме, в какой из стран доля населения 65 лет и старше наименьшая.

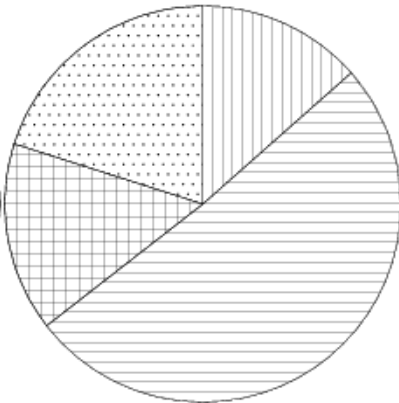
Китай



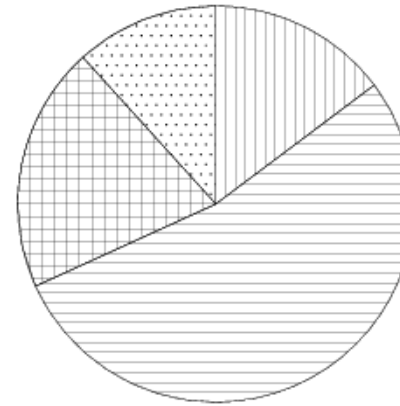
Индонезия



Япония



Россия



- 1) Китай
- 2) Индонезия
- 3) Япония
- 4) Россия