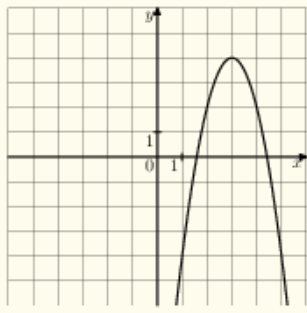


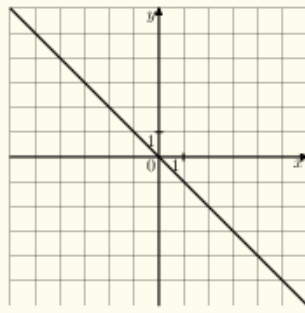
На одном из рисунков изображена парабола. Укажите номер этого рисунка.

Варианты ответа

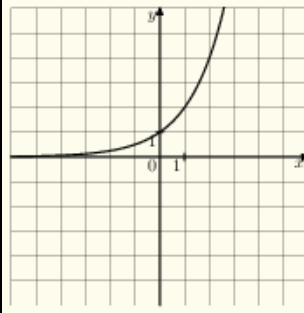
1.



2.



3.



4.

