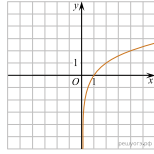
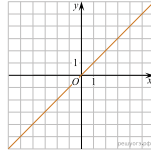


На одном из рисунков изображен график функции $y = x^2 + 2x - 3$. Укажите номер этого рисунка.

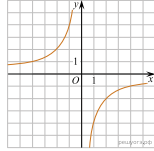
1)



2)



3)



4)

