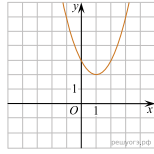
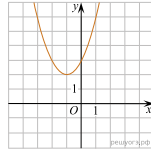


На одном из рисунков изображен график функции  $y = x^2 - 2x + 3$ . Укажите номер этого рисунка.

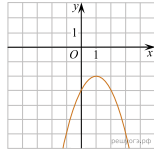
1)



2)



3)



4)

