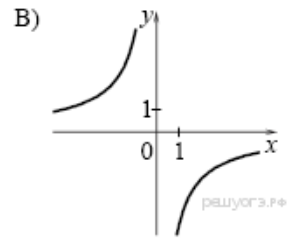
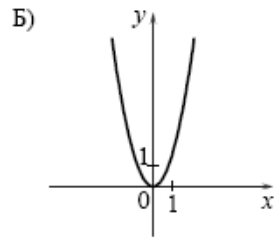
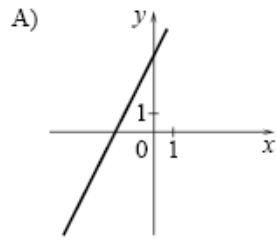


Установите соответствие между графиками функций и формулами, которые их задают.



- 1) $y = 2x - 4$
- 2) $y = -\frac{4}{x}$
- 3) $y = 2x^2$
- 4) $y = 2x + 4$

А	Б	В