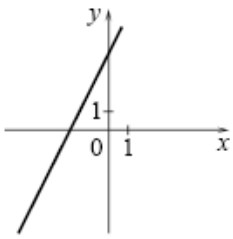
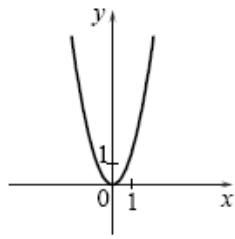


Установите соответствие между графиками функций и формулами, которые их задают.

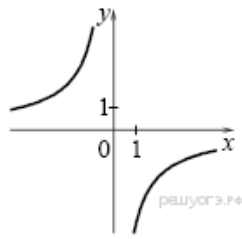
А)



Б)



В)



1) $y = 2x - 4$

2) $y = -\frac{4}{x}$

3) $y = 2x^2$

4) $y = 2x + 4$

А	Б	В