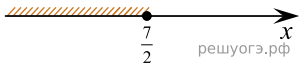


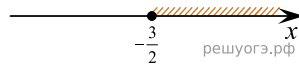
Решите неравенство $4x + 5 \geq 6x - 2$ и определите, на каком рисунке изображено множество его решений.

В ответе укажите номер правильного варианта.

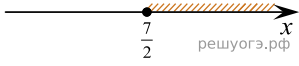
1)



2)



3)



4)

