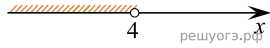



Решите систему неравенств $\begin{cases} -12+3x < 0, \\ 9-4x > -23. \end{cases}$
На каком рисунке изображено множество её решений?

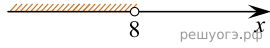
1)



2)



3)



4)

