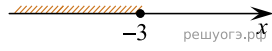


Решите систему неравенств  $\begin{cases} x^2 \leq 4, \\ x + 3 \geq 0. \end{cases}$


На каком из рисунков изображено множество её решений?

В ответе укажите номер правильного варианта.


1)



2)



3)



4)

