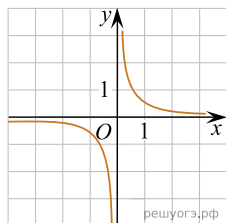
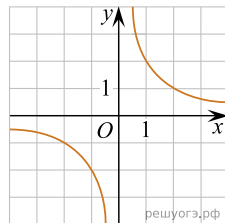


На одном из рисунков изображен график функции  $y = -\frac{2}{x}$ . Укажите номер этого рисунка.

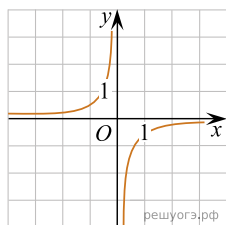
1)



2)



3)



4)

