

Установите соответствие между функциями и их графиками.

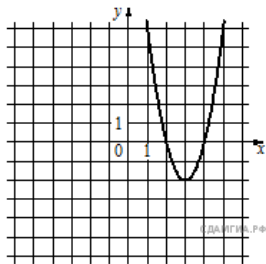
Функции

1) $y = -2x^2 + 12x - 16$

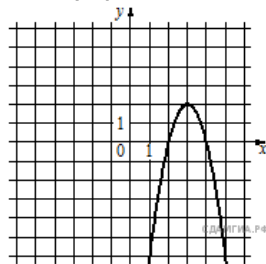
2) $y = 2x^2 - 12x + 16$

3) $y = 2x^2 + 12x + 16$

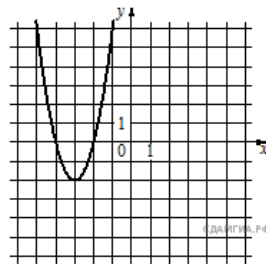
Графики



A)



Б)



В)

Запишите в ответ цифры, расположив их в порядке, соответствующем буквам:

А	Б	В