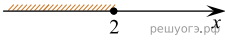


Решите систему неравенств $\begin{cases} 2x - 3 \leq 5, \\ 7 - 3x \leq 1. \end{cases}$

На каком из рисунков изображено множество её решений?


1)



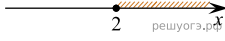
2)



3)



4)



- 1)
- 2)
- 3)
- 4)