

Установите соответствие между функциями и их графиками.

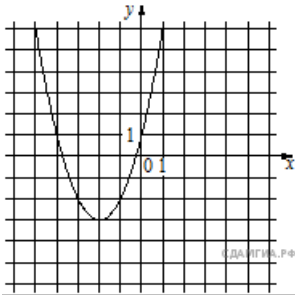
Функции

1) $y = x^2 + 4x + 1$

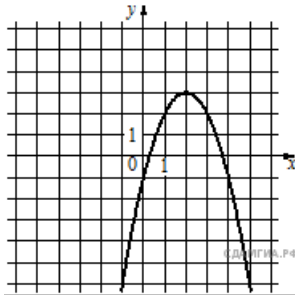
2) $y = x^2 - 4x + 1$

3) $y = -x^2 + 4x - 1$

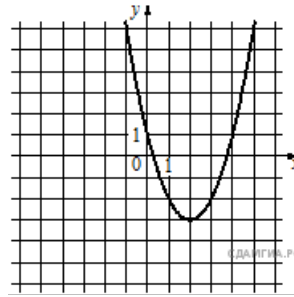
Графики



A)



Б)



В)

Запишите в ответ цифры, расположив их в порядке, соответствующем буквам:

А	Б	В