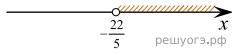


На каком рисунке изображено множество решений неравенства

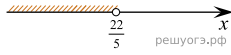
$$4 - 5(5x - 2) > -8?$$

В ответе укажите номер правильного варианта.

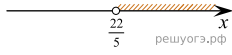
1)



2)



3)



4)

