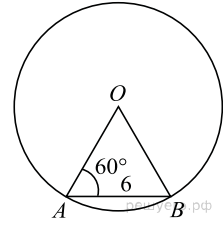
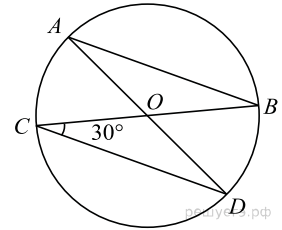


**Центральные и вписанные углы**

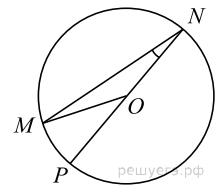
1. Центральный угол  $AOB$  опирается на хорду  $AB$  длиной 6. При этом угол  $OAB$  равен  $60^\circ$ . Найдите радиус окружности.



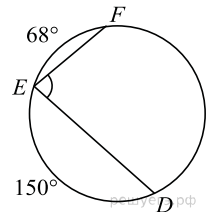
2. В окружности с центром в точке  $O$  проведены диаметры  $AD$  и  $BC$ , угол  $OCD$  равен  $30^\circ$ . Найдите величину угла  $OAB$ .



3. Найдите градусную меру центрального  $\angle MON$ , если известно,  $NP$  — диаметр, а градусная мера  $\angle MNP$  равна  $18^\circ$ .

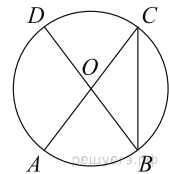


4. Найдите  $\angle DEF$ , если градусные меры дуг  $DE$  и  $EF$  равны  $150^\circ$  и  $68^\circ$  соответственно.

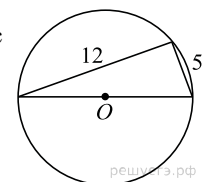


5. Найдите градусную меру  $\angle ACB$ , если известно, что  $BC$  является диаметром окружности, а градусная мера центрального  $\angle AOC$  равна  $96^\circ$ .

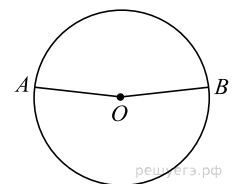
6. В окружности с центром  $O$   $AC$  и  $BD$  — диаметры. Угол  $ACB$  равен  $26^\circ$ . Найдите угол  $AOD$ . Ответ дайте в градусах.



7. Прямоугольный треугольник с катетами 5 см и 12 см вписан в окружность. Чему равен радиус этой окружности?

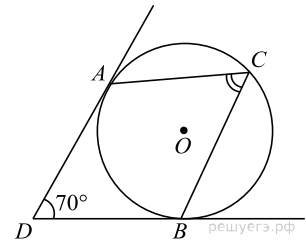


8. Точки  $A$  и  $B$  делят окружность на две дуги, длины которых относятся как 9:11. Найдите величину центрального угла, опирающегося на меньшую из дуг. Ответ дайте в градусах.



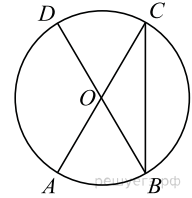
9.

В угол величиной  $70^\circ$  вписана окружность, которая касается его сторон в точках  $A$  и  $B$ . На одной из дуг этой окружности выбрали точку  $C$  так, как показано на рисунке. Найдите величину угла  $ACB$ .



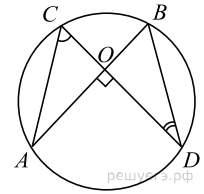
10.

Величина центрального угла  $AOD$  равна  $110^\circ$ . Найдите величину вписанного угла  $ACB$ . Ответ дайте в градусах.



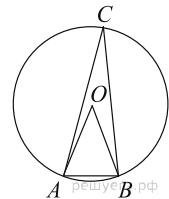
11.

Точки  $A$ ,  $B$ ,  $C$  и  $D$  лежат на одной окружности так, что хорды  $AB$  и  $CD$  взаимно перпендикулярны, а  $\angle BDC = 25^\circ$ . Найдите величину угла  $ACD$ .



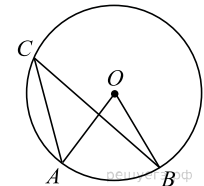
12.

Треугольник  $ABC$  вписан в окружность с центром в точке  $O$ . Найдите градусную меру угла  $C$  треугольника  $ABC$ , если угол  $AOB$  равен  $48^\circ$ .



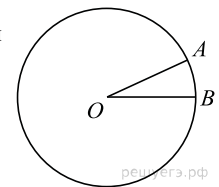
13.

Точка  $O$  — центр окружности,  $\angle AOB = 84^\circ$  (см. рисунок). Найдите величину угла  $ACB$  (в градусах).



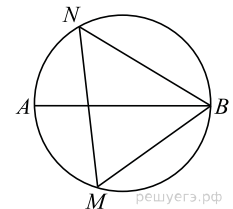
14.

На окружности с центром  $O$  отмечены точки  $A$  и  $B$  так, что  $\angle AOB = 28^\circ$ . Длина меньшей дуги  $AB$  равна 63. Найдите длину большей дуги.



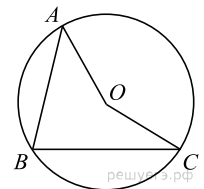
15.

На окружности по разные стороны от диаметра  $AB$  взяты точки  $M$  и  $N$ . Известно, что  $\angle NBA = 38^\circ$ . Найдите угол  $NMB$ . Ответ дайте в градусах.




16.

Точка  $O$  — центр окружности, на которой лежат точки  $A$ ,  $B$  и  $C$ . Известно, что  $\angle ABC = 15^\circ$  и  $\angle OAB = 8^\circ$ . Найдите угол  $BCO$ . Ответ дайте в градусах.



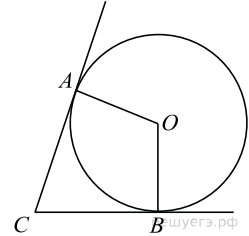
17.

$AC$  и  $BD$  — диаметры окружности с центром  $O$ . Угол  $ACB$  равен  $79^\circ$ . Найдите угол  $AOD$ . Ответ дайте в градусах.

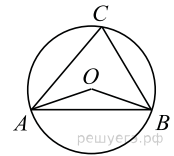


18.

В угол  $C$  величиной  $83^\circ$  вписана окружность, которая касается сторон угла в точках  $A$  и  $B$ . Найдите угол  $AOB$ . Ответ дайте в градусах.

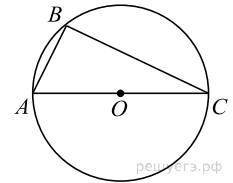


19. Треугольник  $ABC$  вписан в окружность с центром в точке  $O$ . Найдите градусную меру угла  $C$  треугольника  $ABC$ , если угол  $AOB$  равен  $115^\circ$ .



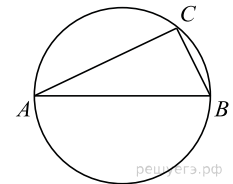
20.

Сторона  $AC$  треугольника  $ABC$  содержит центр описанной около него окружности. Найдите  $\angle C$ , если  $\angle A = 75^\circ$ . Ответ дайте в градусах.



21.

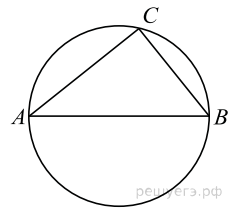
Центр окружности, описанной около треугольника  $ABC$ , лежит на стороне  $AB$ . Найдите угол  $ABC$ , если угол  $BAC$  равен  $30^\circ$ . Ответ дайте в градусах.



22. На окружности с центром в точке  $O$  отмечены точки  $A$  и  $B$  так, что  $\angle AOB = 40^\circ$ . Длина меньшей дуги  $AB$  равна 50. Найдите длину большей дуги  $AB$ .

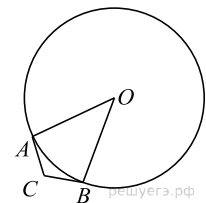
23.

Центр окружности, описанной около треугольника  $ABC$ , лежит на стороне  $AB$ . Найдите угол  $ABC$ , если угол  $BAC$  равен  $44^\circ$ . Ответ дайте в градусах.



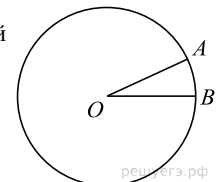
24.

В угол  $C$  величиной  $157^\circ$  вписана окружность, которая касается сторон угла в точках  $A$  и  $B$ , точка  $O$  — центр окружности. Найдите угол  $AOB$ . Ответ дайте в градусах.



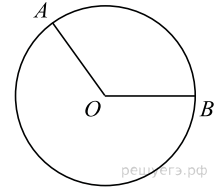
25.

На окружности с центром в точке  $O$  отмечены точки  $A$  и  $B$  так, что  $\angle AOB = 18^\circ$ . Длина меньшей дуги  $AB$  равна 5. Найдите длину большей дуги  $AB$ .



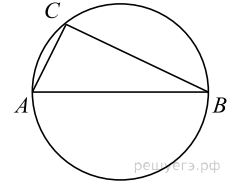
26.

На окружности с центром в точке  $O$  отмечены точки  $A$  и  $B$  так, что  $\angle AOB = 122^\circ$ . Длина меньшей дуги  $AB$  равна 61. Найдите длину большей дуги  $AB$ .



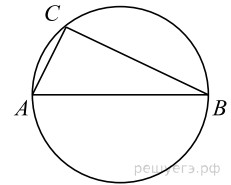
27.

Центр окружности, описанной около треугольника  $ABC$ , лежит на стороне  $AB$ . Радиус окружности равен 6,5. Найдите  $AC$ , если  $BC = 12$ .

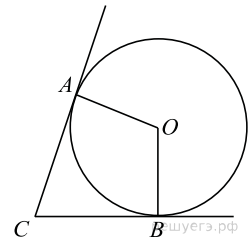


28.

Центр окружности, описанной около треугольника  $ABC$ , лежит на стороне  $AB$ . Радиус окружности равен 8,5. Найдите  $BC$ , если  $AC = 8$ .

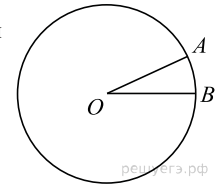


29. В угол  $C$  величиной  $72^\circ$  вписана окружность, которая касается сторон угла в точках  $A$  и  $B$ , точка  $O$  - центр окружности. Найдите угол  $AOB$ . Ответ дайте в градусах.



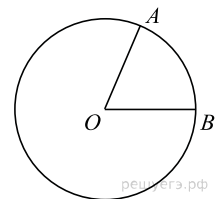
30.

На окружности с центром  $O$  отмечены точки  $A$  и  $B$  так, что  $\angle AOB = 18^\circ$ . Длина меньшей дуги  $AB$  равна 98. Найдите длину большей дуги.



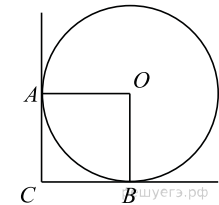
31.

На окружности с центром  $O$  отмечены точки  $A$  и  $B$  так, что  $\angle AOB = 80^\circ$ . Длина меньшей дуги  $AB$  равна 58. Найдите длину большей дуги.



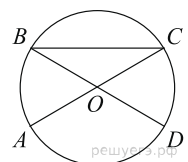
32.

В угол  $C$  величиной  $90^\circ$  вписана окружность, которая касается сторон угла в точках  $A$  и  $B$ , точка  $O$  - центр окружности. Найдите угол  $AOB$ . Ответ дайте в градусах.



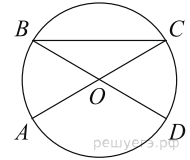
33.

$AC$  и  $BD$  — диаметры окружности с центром  $O$ . Угол  $ACB$  равен  $36^\circ$ . Найдите угол  $AOD$ . Ответ дайте в градусах.

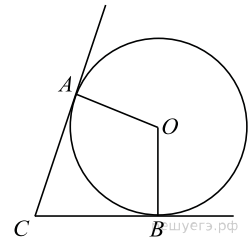


34.

$AC$  и  $BD$  — диаметры окружности с центром  $O$ . Угол  $ACB$  равен  $23^\circ$ . Найдите угол  $AOD$ . Ответ дайте в градусах.

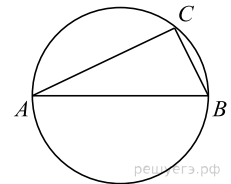


35. В угол  $C$  величиной  $62^\circ$  вписана окружность, которая касается сторон угла в точках  $A$  и  $B$ , точка  $O$  — центр окружности. Найдите угол  $AOB$ . Ответ дайте в градусах.



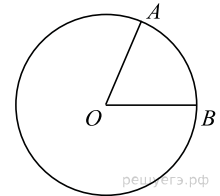
36.

Центр окружности, описанной около треугольника  $ABC$ , лежит на стороне  $AB$ . Найдите угол  $ABC$ , если угол  $BAC$  равен  $33^\circ$ . Ответ дайте в градусах.



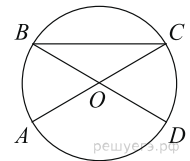
37.

На окружности с центром  $O$  отмечены точки  $A$  и  $B$  так, что  $\angle AOB = 57^\circ$ . Длина меньшей дуги  $AB$  равна 57. Найдите длину большей дуги.

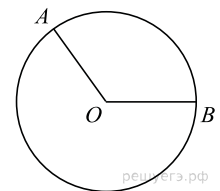


38.

$AC$  и  $BD$  — диаметры окружности с центром  $O$ . Угол  $ACB$  равен  $54^\circ$ . Найдите угол  $AOD$ . Ответ дайте в градусах.

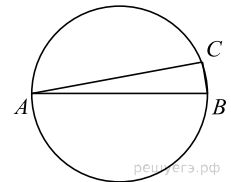


39. На окружности с центром  $O$  отмечены точки  $A$  и  $B$  так, что  $\angle AOB = 120^\circ$ . Длина меньшей дуги  $AB$  равна 67. Найдите длину большей дуги.



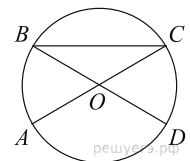
40.

Центр окружности, описанной около треугольника  $ABC$ , лежит на стороне  $AB$ . Найдите угол  $ABC$ , если угол  $BAC$  равен  $9^\circ$ . Ответ дайте в градусах.




41.

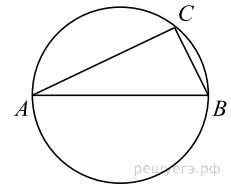
$AC$  и  $BD$  — диаметры окружности с центром  $O$ . Угол  $ACB$  равен  $19^\circ$ . Найдите угол  $AOD$ . Ответ дайте в градусах.



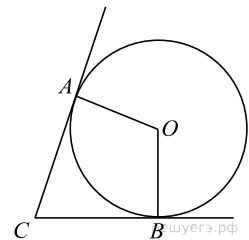
42.  $AC$  и  $BD$  — диаметры окружности с центром  $O$ . Угол  $ACB$  равен  $78^\circ$ . Найдите угол  $AOD$ . Ответ дайте в градусах.



43. Центр окружности, описанной около треугольника  $ABC$ , лежит на стороне  $AB$ . Найдите угол  $ABC$ , если угол  $BAC$  равен  $24^\circ$ . Ответ дайте в градусах.



44. В угол  $C$  величиной  $71^\circ$  вписана окружность, которая касается сторон угла в точках  $A$  и  $B$ , точка  $O$  — центр окружности. Найдите угол  $AOB$ . Ответ дайте в градусах.



45. Треугольник  $ABC$  вписан в окружность с центром в точке  $O$ . Точки  $O$  и  $C$  лежат в одной полуплоскости относительно прямой  $AB$ . Найдите угол  $ACB$ , если угол  $AOB$  равен  $153^\circ$ . Ответ дайте в градусах.

