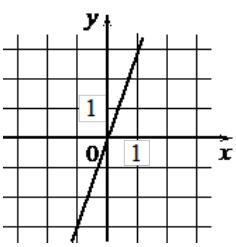
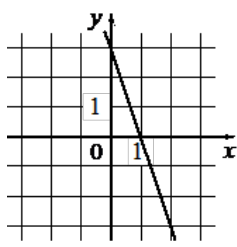
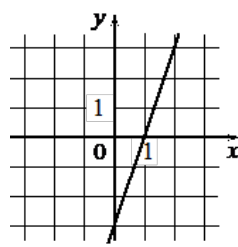


Установите соответствие между графиками функций и формулами, которые их задают.

ГРАФИКИ		
А) 	Б) 	В) 
ФОРМУЛЫ		
1) $y = -3x + 3$	2) $y = 3x$	3) $y = 3x - 3$