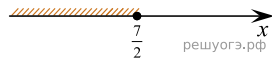
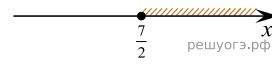


На каком рисунке изображено множество решений неравенства $4x + 5 \geq 6x - 2$?
 В ответе укажите номер правильного варианта.

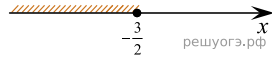
1)



2)



3)



4)

