

Установите соответствие между функциями и их графиками.

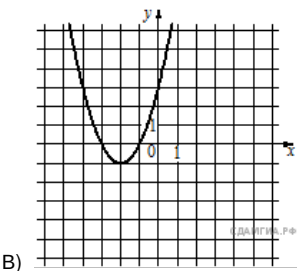
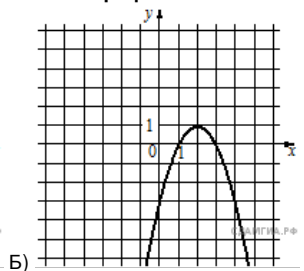
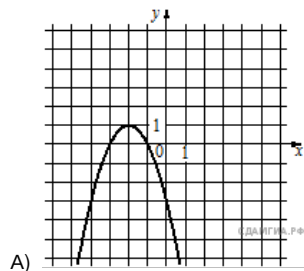
**Функции**

1)  $y = -x^2 - 4x - 3$

2)  $y = -x^2 + 4x - 3$

3)  $y = x^2 + 4x + 3$

**Графики**



Запишите в ответ цифры, расположив их в порядке, соответствующем буквам:

А	Б	В