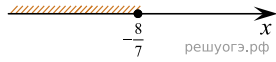
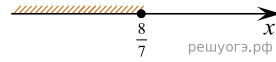


На каком рисунке изображено множество решений неравенства $4 - 7(x + 3) \leq -9$?
 В ответе укажите номер правильного варианта.

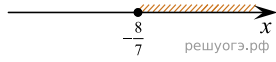
1)



2)



3)



4)

