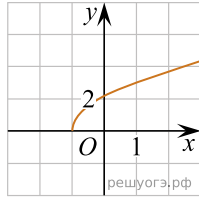
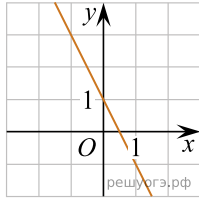


Укажите соответствие между графиками функций и формулами, которые их задают.

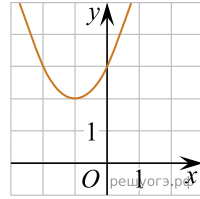
А)



Б)



В)



- 1)  $y = (x+1)^2 + 2$
- 2)  $y = 1 - 2x$
- 3)  $y = \sqrt{5x+5}$
- 4)  $y = \sqrt{5x-5}$

Ответ укажите в виде последовательности цифр без пробелов и запятых в указанном порядке

А	Б	В