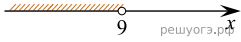
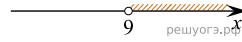


На каком рисунке изображено множество решений системы неравенств $\begin{cases} x > 9, \\ 8 - x < 0? \end{cases}$

1)



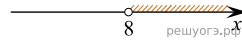
2)



3)



4)



- 1) 1
- 2) 2
- 3) 3
- 4) 4