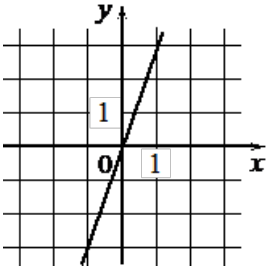
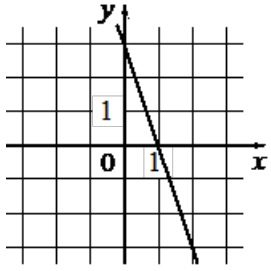
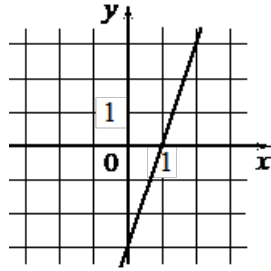


Установите соответствие между графиками функций и формулами, которые их задают.

<b>ГРАФИКИ</b>			
А)		Б)	
		В)	
<b>ФОРМУЛЫ</b>			
1) $y = -3x + 3$	2) $y = 3x$	3) $y = 3x - 3$	