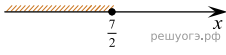


На каком рисунке изображено множество решений неравенства

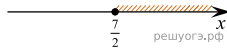
$$4x + 5 \geq 6x - 2?$$

В ответе укажите номер правильного варианта.

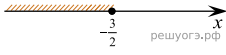
1)



2)



3)



4)

