


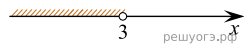
Решите систему неравенств $\{-9+3x < 0, 2-3x > -10\}$.

На каком рисунке изображено множество её решений?

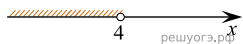
1)



2)



3)



4)

