

Установите соответствие между функциями и их графиками.

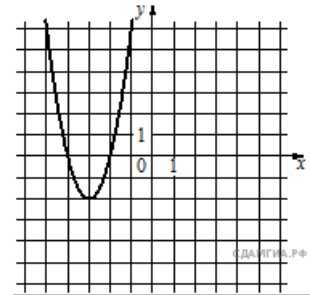
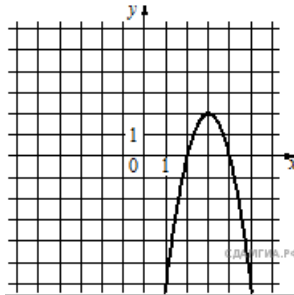
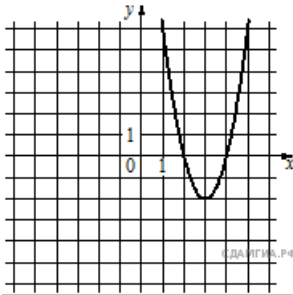
**Функции**

1)  $y = -2x^2 + 12x - 16$

2)  $y = 2x^2 - 12x + 16$

3)  $y = 2x^2 + 12x + 16$

**Графики**



Запишите в ответ цифры, расположив их в порядке, соответствующем буквам:

А	Б	В