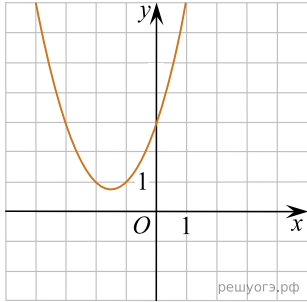
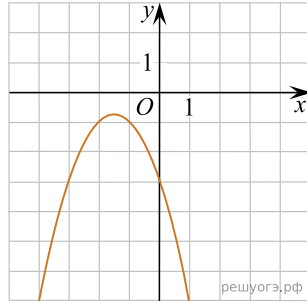


Установите соответствие между графиками функций и формулами, которые их задают.

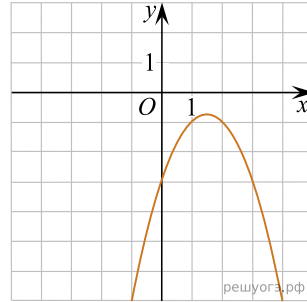
А)



Б)



В)



1) $y = x^2 + 3x + 3$

2) $y = x^2 - 3x + 3$

3) $y = -x^2 - 3x - 3$

4) $y = -x^2 + 3x - 3$

Ответ укажите в виде последовательности цифр без пробелов и запятых в указанном порядке

А	Б	В