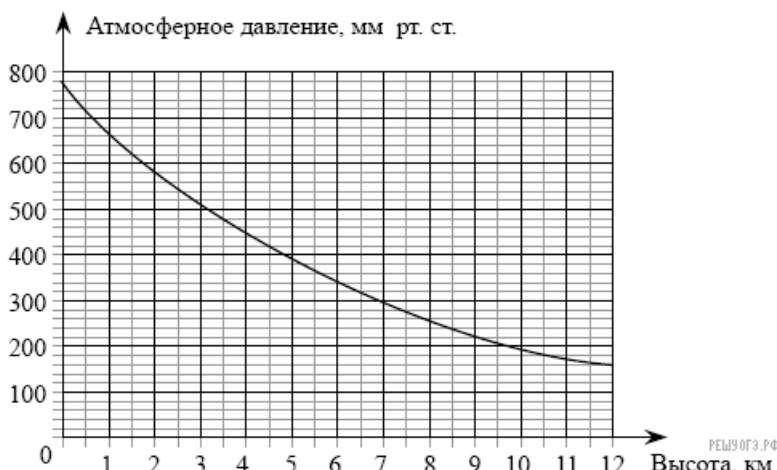


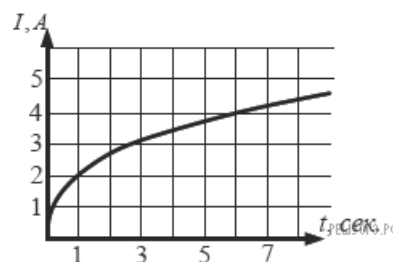
1. На графике изображена зависимость атмосферного давления (в миллиметрах ртутного столба) от высоты над уровнем моря (в километрах). На какой высоте (в км) летит воздушный шар, если барометр, находящийся в корзине шара, показывает давление 540 миллиметров ртутного столба?



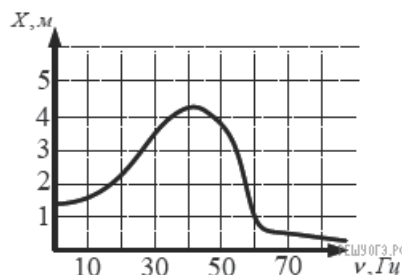
2. Когда самолет находится в горизонтальном полете, подъемная сила, действующая на крылья, зависит только от скорости. На рисунке изображена эта зависимость для некоторого самолета. На оси абсцисс откладывается скорость (в километрах в час), на оси ординат – сила (в тоннах силы). Определите по рисунку, чему равна подъемная сила (в тоннах силы) при скорости 200 км/ч?

3. В аэропорту чемоданы пассажиров поднимают в зал выдачи багажа по транспортерной ленте. При проектировании транспортера необходимо учитывать допустимую силу натяжения ленты транспортера. На рисунке изображена зависимость натяжения ленты от угла наклона транспортера к горизонту при расчетной нагрузке. На оси абсцисс откладывается угол подъема в градусах, на оси ординат – сила натяжения транспортерной ленты (в килограммах силы). При каком угле наклона сила натяжения достигает 150 кгс? Ответ дайте в градусах.

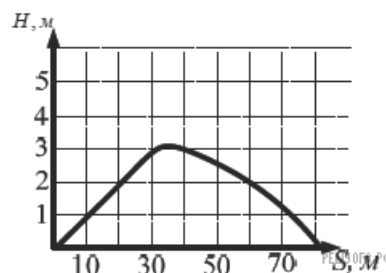
4. На рисунке изображен график изменения силы тока при подключении цепи, содержащей реостат, к источнику тока. По вертикальной оси откладывается сила тока I (в А), по горизонтальной – время t (в сек). По рисунку определите силу тока через 6 секунд с момента подключения данной цепи.



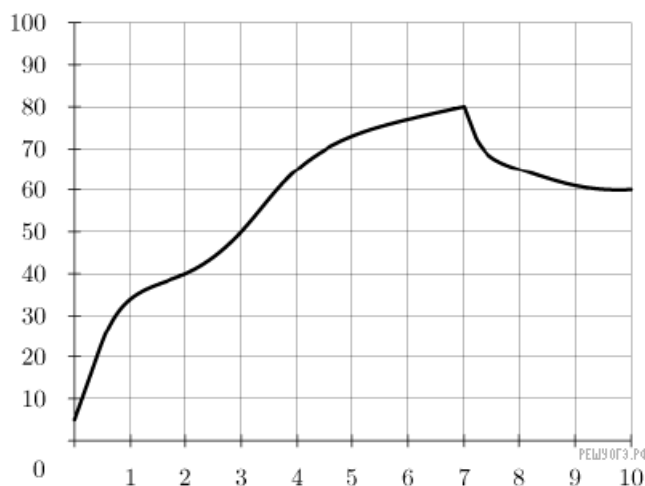
5. На рисунке изображен график зависимости амплитуды вынужденных колебаний от частоты колебаний. По вертикальной оси откладывается амплитуда (в м), по горизонтальной – частота колебаний (в Гц). По рисунку определите частоту колебаний, если амплитуда была равна 1 м.



6. На рисунке изображен график полета тела, брошенного под углом к горизонту. По вертикальной оси откладывается расстояние от земли (в м), по горизонтальной оси— пройденный путь (в м). По рисунку определите, на какой высоте будет находиться тело в момент времени, когда оно пролетит 60 метров.



7. На графике показан процесс разогрева двигателя легкового автомобиля. На оси абсцисс откладывается время в минутах, прошедшее от запуска двигателя, на оси ординат— температура двигателя в градусах Цельсия. Определите по графику, сколько минут двигатель нагревался до температуры 50 °С с момента запуска двигателя.

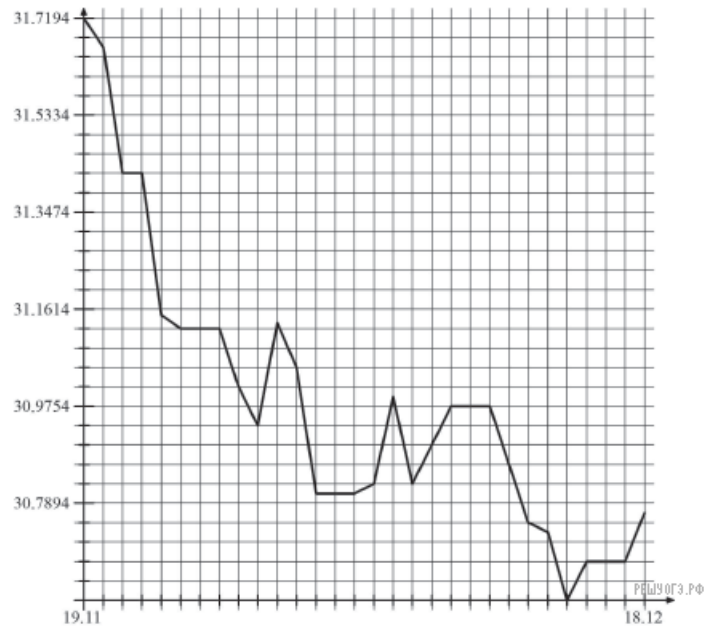


8. На графике изображена зависимость атмосферного давления (в миллиметрах ртутного столба) от высоты над уровнем моря (в километрах).

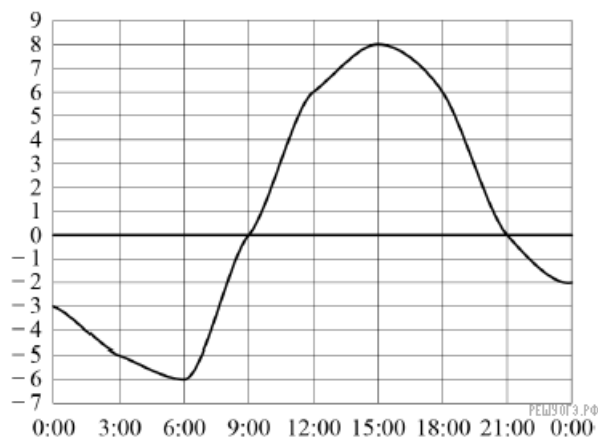


На сколько миллиметров ртутного столба отличается давление на высоте 2 км от давления на высоте 8 км?

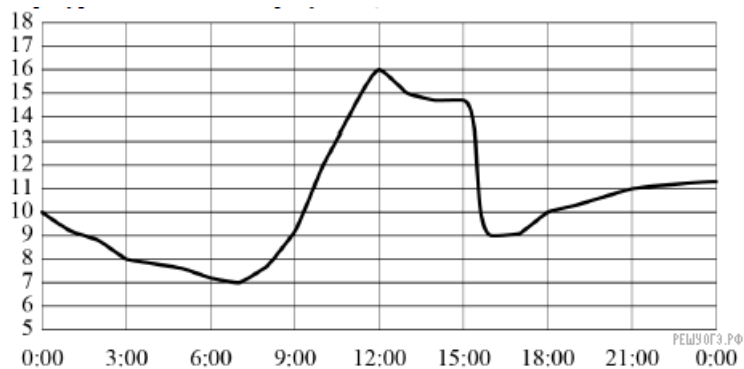
9. На графике представлена динамика изменения курса доллара США в рублях за период с 19 ноября по 19 декабря. По горизонтальной оси отложены даты, по вертикальной— значения доллара США. Шаг по вертикальной оси равен 0,0372 руб. Определите по графику, каким был курс доллара США к рублю 21 ноября.



10. На рисунке показано, как изменялась температура воздуха на протяжении одних суток. По горизонтали указано время суток, по вертикали— значение температуры в градусах Цельсия. Найдите наибольшее значение температуры. Ответ дайте в градусах Цельсия.



11. На рисунке показано, как изменялась температура воздуха на протяжении одних суток. По горизонтали указано время суток, по вертикали— значение температуры в градусах Цельсия. Найдите наименьшее значение температуры. Ответ дайте в градусах Цельсия.



12. На графике изображена зависимость атмосферного давления (в миллиметрах ртутного столба) от высоты местности над уровнем моря (в километрах). На сколько миллиметров ртутного столба атмосферное давление на высоте Эвереста ниже атмосферного давления на высоте Большого Шелома?



13. На рисунке изображён график изменения атмосферного давления в городе Энске за три дня. По горизонтали указаны дни недели, по вертикали — значения атмосферного давления в миллиметрах ртутного столба. Укажите наименьшее значение атмосферного давления во вторник.



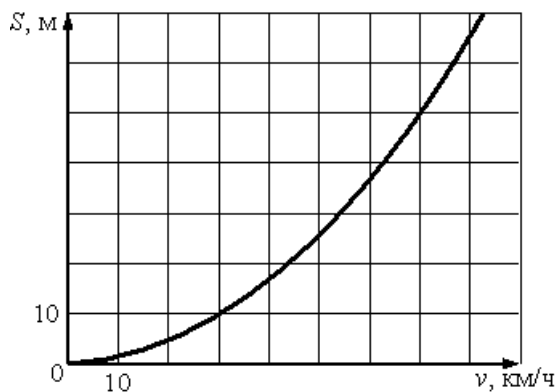
14. Компания предлагает на выбор два разных тарифа для оплаты телефонных разговоров: тариф А и тариф В. Для каждого тарифа зависимость стоимости разговора от его продолжительности изображена графически. На сколько минут хватит 550 р., если используется тариф В?



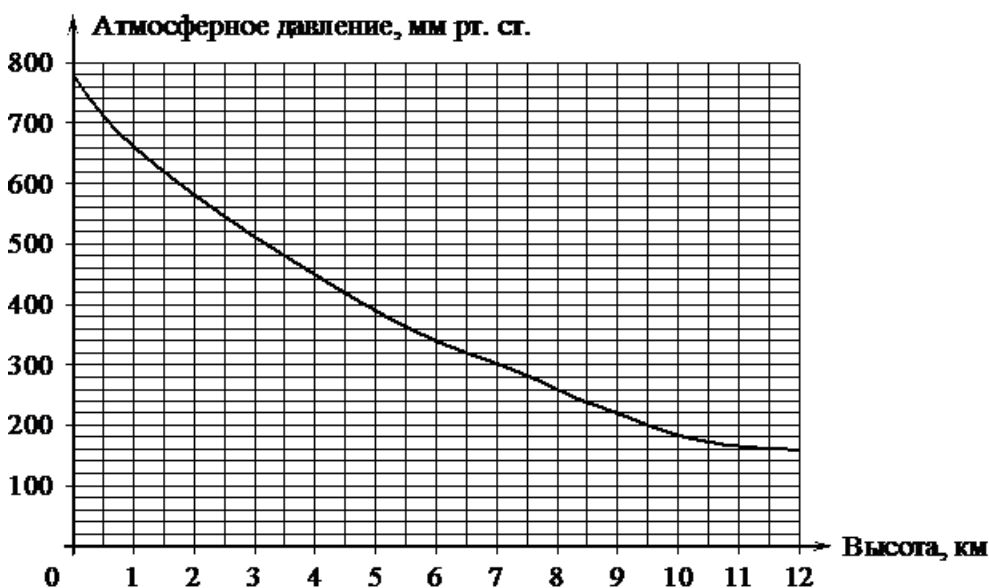
15. На рисунке изображён график изменения атмосферного давления в городе Энске за три дня. По горизонтали указаны дни недели и время, по вертикали— значения атмосферного давления в миллиметрах ртутного столба. Укажите значение атмосферного давления (в мм рт. ст.) во вторник в 12 часов дня.



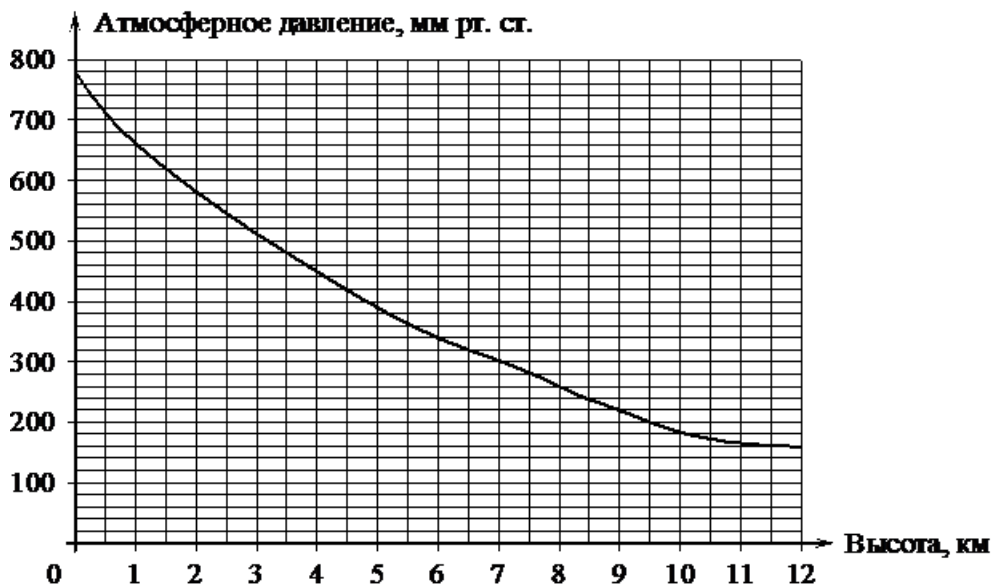
16. При резком торможении расстояние, пройденное автомобилем до полной остановки (тормозной путь), зависит от скорости, с которой автомобиль двигался. На рисунке показан график этой зависимости. По горизонтальной оси откладывается скорость (в км/ч), по вертикальной – тормозной путь (в метрах). Определите по графику, каким будет тормозной путь автомобиля, который движется со скоростью 70 км/ч. Ответ дайте в метрах.



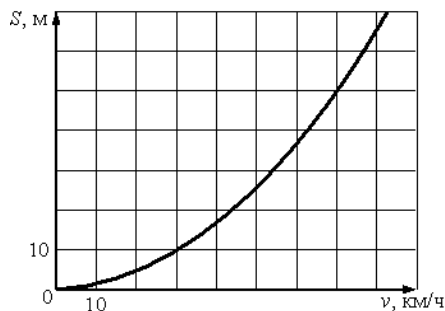
17. На графике изображена зависимость атмосферного давления (в миллиметрах ртутного столба) от высоты над уровнем моря (в километрах). Определите по графику, на какой высоте атмосферное давление равно 660 мм рт. ст. Ответ дайте в километрах.



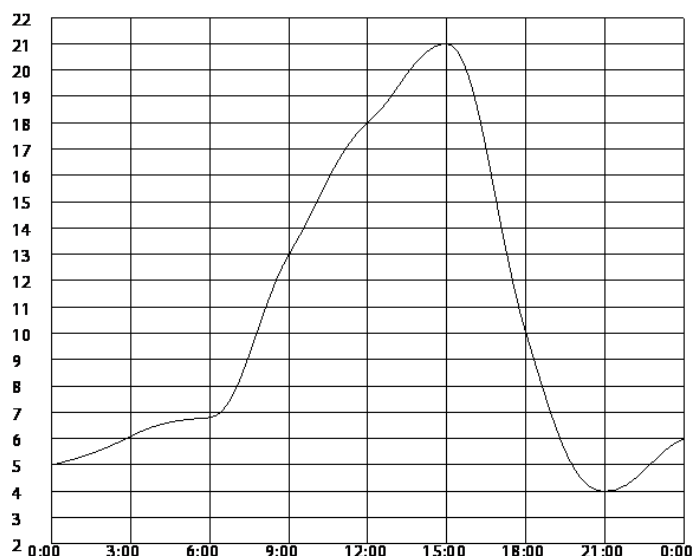
18. На графике изображена зависимость атмосферного давления (в миллиметрах ртутного столба) от высоты над уровнем моря (в километрах). Найдите, чему равно атмосферное давление на высоте 6 км. Ответ дайте в миллиметрах ртутного столба.



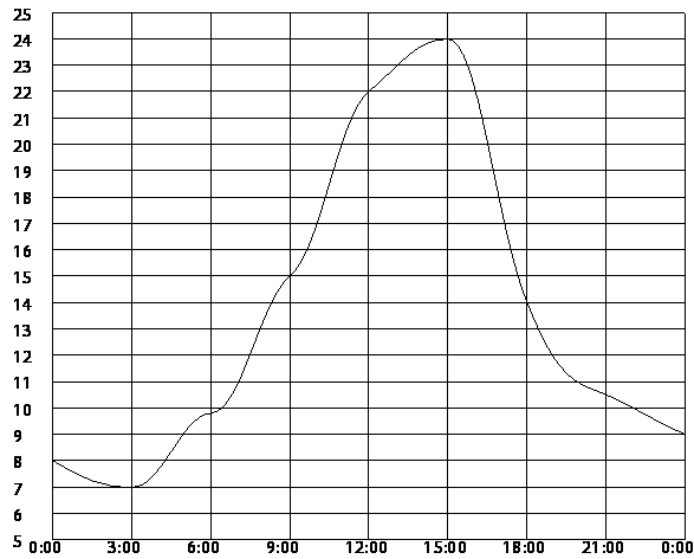
19. При резком торможении расстояние, пройденное автомобилем до полной остановки (тормозной путь), зависит от скорости, с которой автомобиль двигался. На рисунке показан график этой зависимости (для сухой асфальтовой дороги). По горизонтальной оси откладывается скорость (в км/ч), по вертикальной – тормозной путь (в метрах). Определите по графику, с какой скоростью двигался автомобиль, если его тормозной путь составил 50 метров. Ответ дайте в километрах в час.



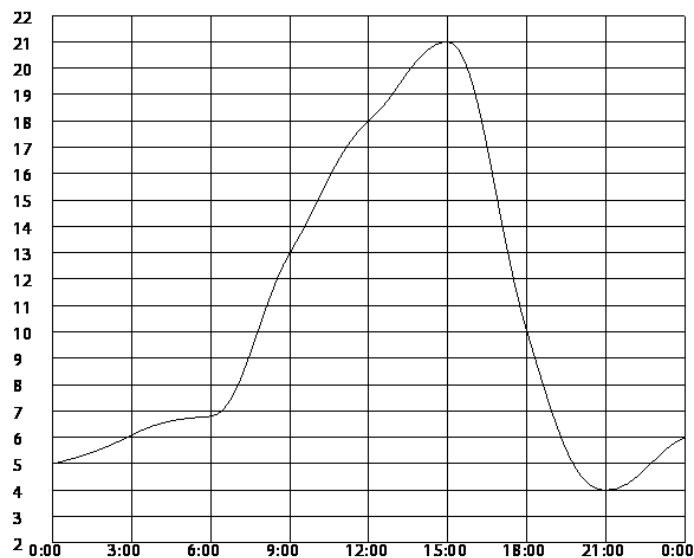
20. На рисунке показано, как изменялась температура воздуха на протяжении одних суток. По горизонтали указано время суток, по вертикали— значение температуры в градусах Цельсия. Найдите наибольшее значение температуры. Ответ дайте в градусах Цельсия.



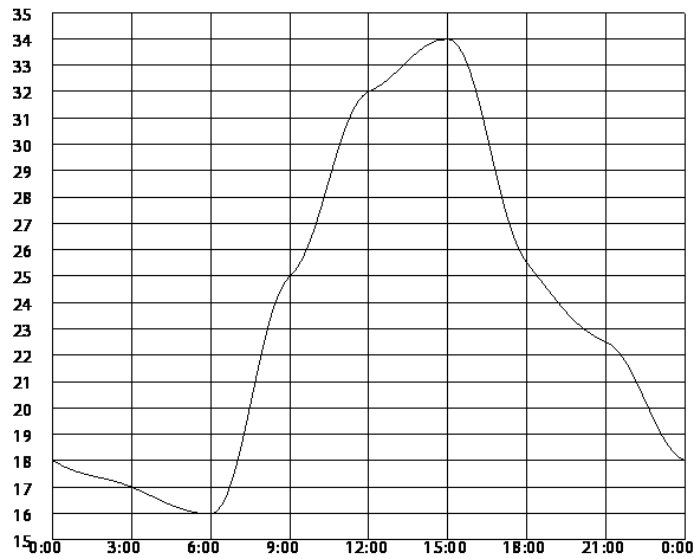
21. На рисунке показано, как изменялась температура воздуха на протяжении одних суток. По горизонтали указано время суток, по вертикали— значение температуры в градусах Цельсия. Найдите наименьшее значение температуры. Ответ дайте в градусах Цельсия.



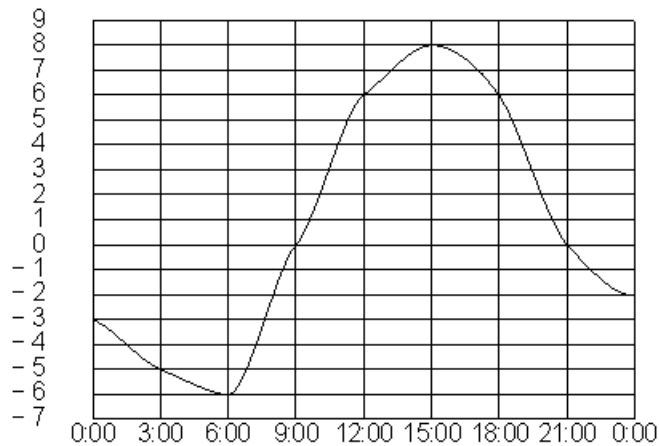
22. На рисунке показано, как изменялась температура на протяжении одних суток. По горизонтали указано время суток, по вертикали— значение температуры в градусах Цельсия. Сколько часов во второй половине дня температура превышала 10 °C?



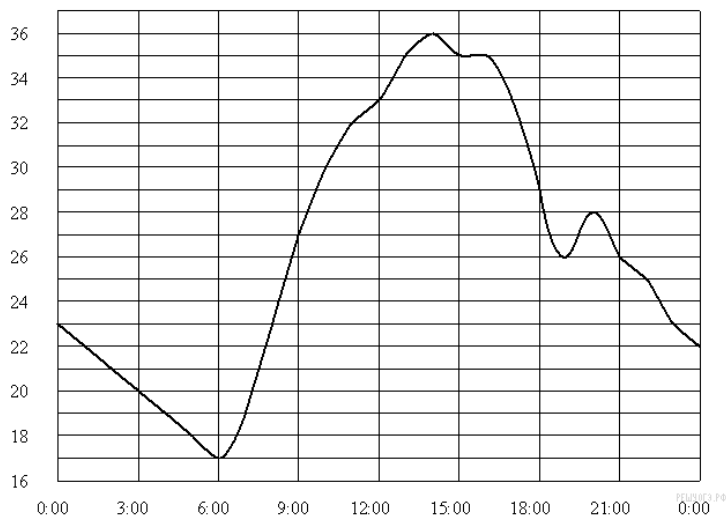
23. На рисунке показано, как изменялась температура на протяжении одних суток. По горизонтали указано время суток, по вертикали— значение температуры в градусах Цельсия. Сколько часов в первой половине дня температура превышала 25°C ?



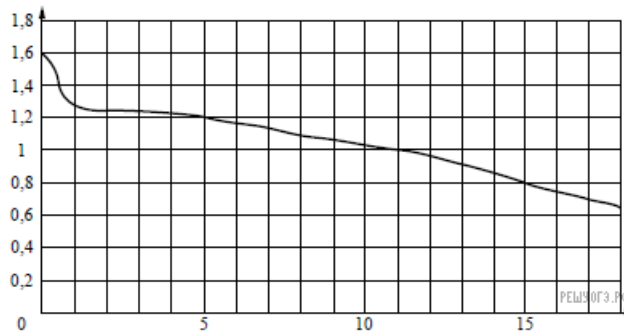
24. На рисунке показано, как изменялась температура воздуха на протяжении одних суток. По горизонтали указано время суток, по вертикали— значение температуры в градусах Цельсия. Сколько часов в первой половине суток температура не превышала 0°C ?



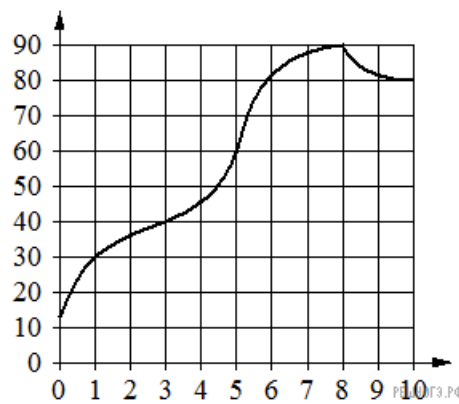
25. На рисунке показано, как изменялась температура на протяжении одних суток. По горизонтали указано время суток, по вертикали— значение температуры в градусах Цельсия. Сколько часов после 12:00 температура превышала 29°C ?



26. На рисунке показан график разряда батарейки в карманном фонарике. На горизонтальной оси отчается время работы фонарика в часах, на вертикальной оси— напряжение в вольтах. Определите по рисунку, какое напряжение будет давать батарейка через 5 часов работы фонарика. Ответ дайте в вольтах.



27. На графике показано изменение температуры в процессе разогрева двигателя легкового автомобиля. На горизонтальной оси отмечено время в минутах, прошедшее с момента запуска двигателя, на вертикальной оси— температура двигателя в градусах Цельсия. Определите по графику, за сколько минут двигатель нагреется с 40 °С до 90 °С.



28. На рисунке жирными точками показано суточное количество осадков, выпадавших в Казани с 3 по 15 февраля 1909 года. По горизонтали указываются числа месяца, по вертикали— количество осадков, выпавших в соответствующий день, в миллиметрах. Для наглядности жирные точки на рисунке соединены линией. Определите по рисунку, какого числа из данного периода в Казани выпало ровно 2 миллиметра осадков.

