

Установите соответствие между функциями и их графиками.

### ФУНКЦИИ

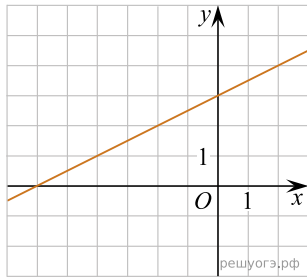
А)  $y = \frac{1}{2}x + 3$

Б)  $y = -\frac{1}{2}x + 3$

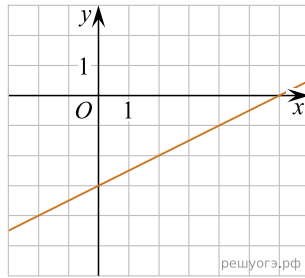
В)  $y = \frac{1}{2}x - 3$

### ГРАФИКИ

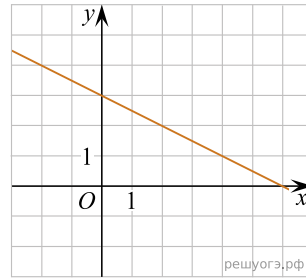
1)



2)



3)



В таблице под каждой буквой укажите соответствующий номер.

Запишите в ответ цифры, расположив их в порядке, соответствующем буквам:

| А | Б | В |
|---|---|---|
|   |   |   |