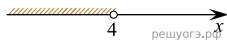



Решите систему неравенств $\begin{cases} -12+3x < 0 \\ 9-4x > -23 \end{cases}$.

На каком рисунке изображено множество её решений?

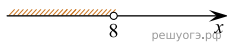
1)



2)



3)



4)

