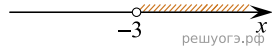


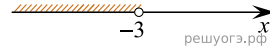
Решите систему неравенств $\begin{cases} x < -3, \\ 9 - x > 0. \end{cases}$

На каком рисунке изображено множество её решений?

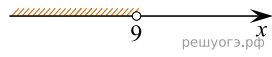
1)



2)



3)



4)

