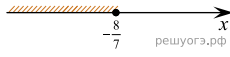


На каком рисунке изображено множество решений неравенства

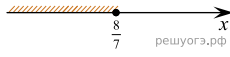
$$4 - 7(x + 3) \leq -9?$$

В ответе укажи те номер правильного варианта.

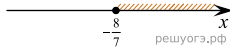
1)



2)



3)



4)

