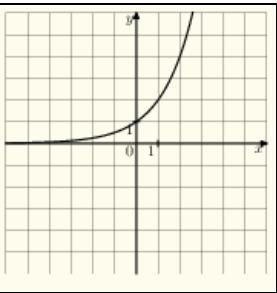
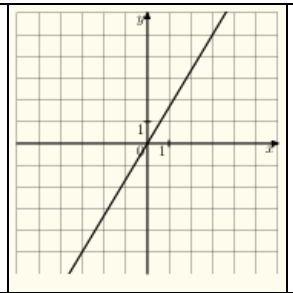
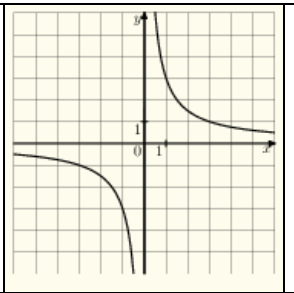
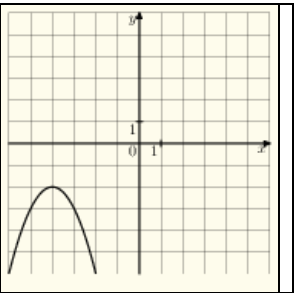


На одном из рисунков изображен график функции $y = \frac{3}{x}$. Укажите номер этого рисунка.

Варианты ответа

<p>1.</p> 	<p>2.</p> 	<p>3.</p> 	<p>4.</p> 
--	--	---	--