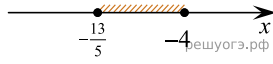


Решите систему неравенств

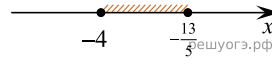
На каком рисунке изображено множество её решений?

$$\begin{cases} 5x + 13 \leq 0, \\ x + 5 \geq 1. \end{cases}$$

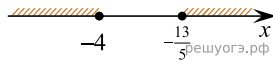
1)



2)



3)



4)

